



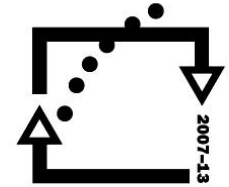
evropský
sociální
fond v ČR



EVROPSKÁ UNIE



MINISTERSTVO ŠKOLSTVÍ,
MLÁDEŽE A TĚLOVÝCHOVY



OP Vzdělávání
pro konkurenceschopnost

INVESTICE DO ROZVOJE VZDĚLÁVÁNÍ

VY_32_INOVACE_CVE_12

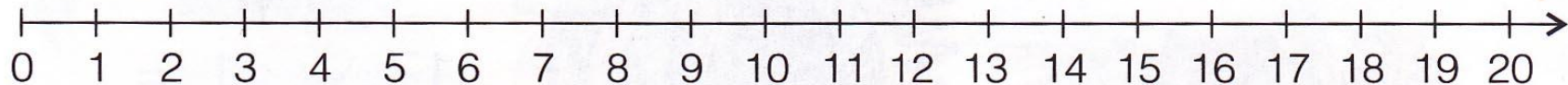
1. Autor: Mgr. Jaroslav Cvek
2. Datum vytvoření: 18.5.2012
3. Ročník: 1.
4. Vzdělávací oblast : ICT
5. Vzdělávací obor: : Matematika
6. Tematický okruh: Numerace čísel
7. Téma: Numerace v oboru do 19
8. Klíčová slova: Číselná osa, rovnost, sčítání, odčítání, slovní úloha
9. Anotace: Prezentace vhodná k procvičení základních úloh o rovnosti, numerace v daném oboru, doplňování tabulek, slovních úlohách

PROCVIČOVÁNÍ

NUMERACE V OBORU DO 19

VYŘEŠTE SLOVNÍ ÚLOHU.

- ✘ Děti natrhaly 12 ředkviček a 7 rajčat. Kolik kusů zeleniny celkem sklidily? Znázorněte a vypočítejte.



--	--	--	--	--



PROCVIČUJTE ROZKLAD ČÍSLA 19.

19	=	14	+	
19	=	0	+	
19	=	10	+	
19	=	15	+	
19	=	4	+	
19	=	11	+	
19	=	8	+	
19	=	18	+	
19	=	5	+	
19	=	19	+	

DOPLŇTE ŘETĚZCE.

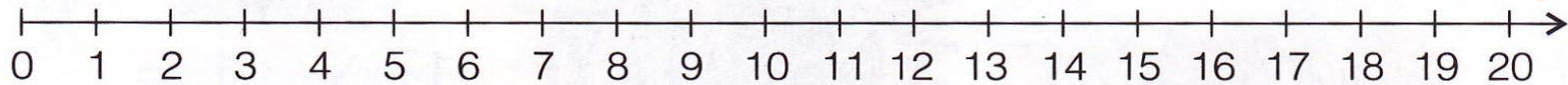
$$\boxed{19} - 7 \Rightarrow \boxed{} + 4 \Rightarrow \boxed{} - 10 \Rightarrow \boxed{} + 3 \Rightarrow \boxed{} + 10 \Rightarrow \boxed{}$$

$$\boxed{7} + 10 \Rightarrow \boxed{} - 6 \Rightarrow \boxed{} + 4 \Rightarrow \boxed{} - 10 \Rightarrow \boxed{} + 3 \Rightarrow \boxed{}$$

$$\boxed{14} + 5 \Rightarrow \boxed{} - 1 \Rightarrow \boxed{} - 6 \Rightarrow \boxed{} - 10 \Rightarrow \boxed{} + 10 \Rightarrow \boxed{}$$

VYŘEŠTE SLOVNÍ ÚLOHU.

- ✘ Jirka dostal 19 třešní. 7 třešní snědl. Kolik třešní mu zůstalo?



--	--	--	--	--



VYPOČÍTEJTE.

12	+	7	=	
15	+	1	=	
7	+	3	=	
6	+	2	=	
14	+	5	=	
19	+	0	=	
10	+	3	=	
1	+	15	=	
2	+	11	=	
3	+	12	=	

VYPOČÍTEJTE.

19	-	5	=	
4	-	4	=	
15	-	1	=	
12	-	10	=	
19	-	0	=	
17	-	4	=	
10	-	6	=	
16	-	4	=	
8	-	2	=	
19	-	1	=	

VYPOČÍTEJTE.

19	-	7	=	
4	+	14	=	
15	-	3	=	
7	+	3	=	
14	-	10	=	
5	+	11	=	
19	-	19	=	
8	-	3	=	
3	+	14	=	
12	-	0	=	