



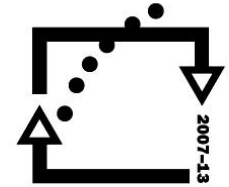
evropský  
sociální  
fond v ČR



EVROPSKÁ UNIE



MINISTERSTVO ŠKOLSTVÍ,  
MLÁDEŽE A TĚLOVÝCHOVY



OP Vzdělávání  
pro konkurenceschopnost

INVESTICE DO ROZVOJE VZDĚLÁVÁNÍ

# VY\_32\_INOVACE\_CVE\_15

---

1. Autor: Mgr. Jaroslav Cvek
2. Datum vytvoření: 16.11.2012
3. Ročník: 2.
4. Vzdělávací oblast : ICT
5. Vzdělávací obor: : Matematika
6. Tematický okruh: Numerace čísel
7. Téma: Numerace v oboru 0 - 20
8. Klíčová slova: Číselná řada, rovnost, slovní úloha, sčítání, odčítání
9. Anotace: Prezentace vhodná k procvičení základních úloh o číselných řadách, numerace v daném oboru, doplňování tabulek, řešení slovní úlohy, rovnosti

Opakování učiva 1. ročníku, II. část

# **NUMERACE V OBORU 0 - 20**

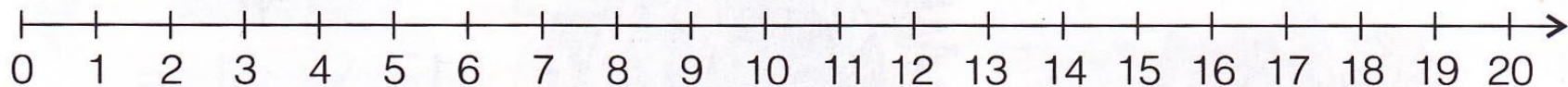






# VYŘEŠTE SLOVNÍ ÚLOHU.

- ✘ Karel snědl 18 třešní, Tomáš jich snědl o 4 méně. Kolik třešní snědl Tomáš?



--	--	--	--	--



# PROCVIČUJTE ROZKLAD ČÍSLA 19.

19	=	14	+	
19	=	0	+	
19	=	10	+	
19	=	15	+	
19	=	4	+	
19	=	11	+	
19	=	8	+	
19	=	18	+	
19	=	5	+	
19	=	19	+	

# DOPLŇTE ŘETĚZCE.

$$\boxed{15} + 4 \Rightarrow \boxed{\phantom{00}} - 10 \Rightarrow \boxed{\phantom{00}} - 7 \Rightarrow \boxed{\phantom{00}} + 4 \Rightarrow \boxed{\phantom{00}} + 3 \Rightarrow \boxed{\phantom{00}}$$

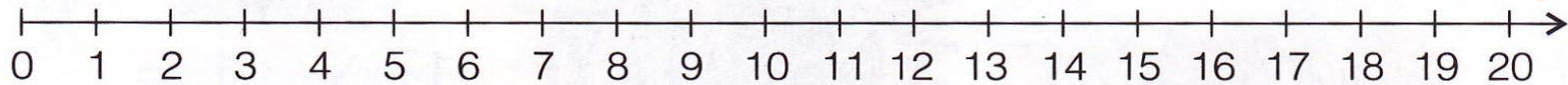
$$\boxed{12} + 8 \Rightarrow \boxed{\phantom{00}} - 9 \Rightarrow \boxed{\phantom{00}} + 3 \Rightarrow \boxed{\phantom{00}} - 3 \Rightarrow \boxed{\phantom{00}} + 6 \Rightarrow \boxed{\phantom{00}}$$

$$\boxed{20} - 5 \Rightarrow \boxed{\phantom{00}} + 2 \Rightarrow \boxed{\phantom{00}} - 4 \Rightarrow \boxed{\phantom{00}} - 3 \Rightarrow \boxed{\phantom{00}} - 10 \Rightarrow \boxed{\phantom{00}}$$



# VYŘEŠTE SLOVNÍ ÚLOHU.

- ✘ Ondřej natrhal 12 jablek a 7 hrušek. Kolik kusů ovoce natrhal?



--	--	--	--	--

---

# VYPOČÍTEJTE.

7	+	3	=	
4	+	6	=	
14	+	6	=	
20	+	0	=	
11	+	4	=	
15	+	1	=	
4	+	12	=	
1	+	11	=	
7	+	12	=	
0	+	18	=	

# VYPOČÍTEJTE.

7	-	1	=	
10	-	10	=	
8	-	3	=	
14	-	10	=	
19	-	5	=	
20	-	3	=	
18	-	7	=	
10	-	2	=	
13	-	0	=	
20	-	7	=	

# VYPOČÍTEJTE.

3	-	2	=	
7	+	2	=	
17	+	2	=	
20	-	8	=	
18	-	5	=	
20	-	3	=	
14	+	6	=	
18	-	7	=	
1	+	15	=	
16	-	10	=	